

## Tracer un carré

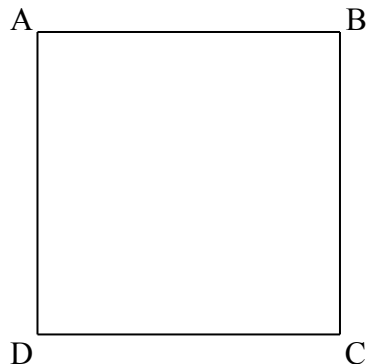
Décrire, reproduire, tracer un carré, un rectangle, un triangle rectangle.

### Voici le carré ABCD.

Le carré a ..... côtés.

Le carré a ..... sommets.

AB mesure ..... cm



### Mesure la longueur des autres côtés.

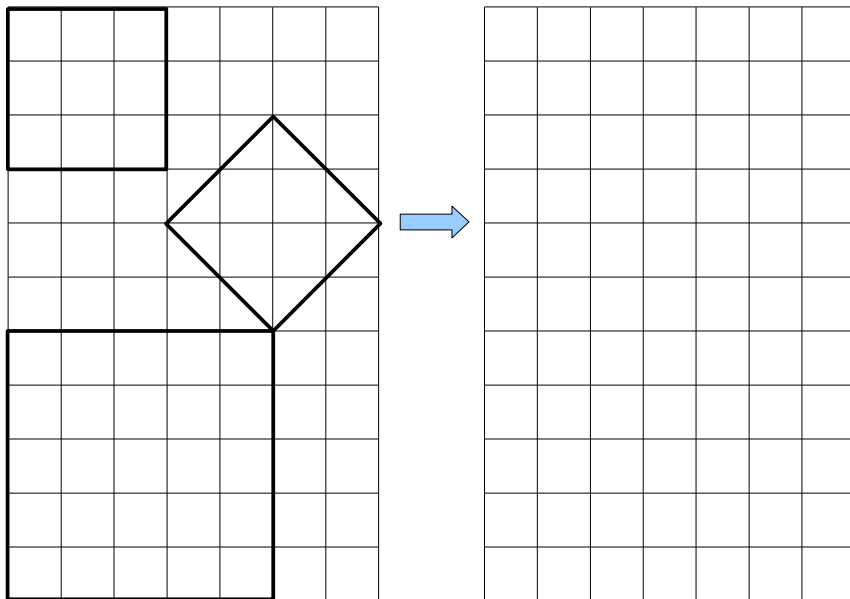
Que peux-tu dire ?

.....  
.....

Observe ses angles. Que peux-tu dire ?

.....

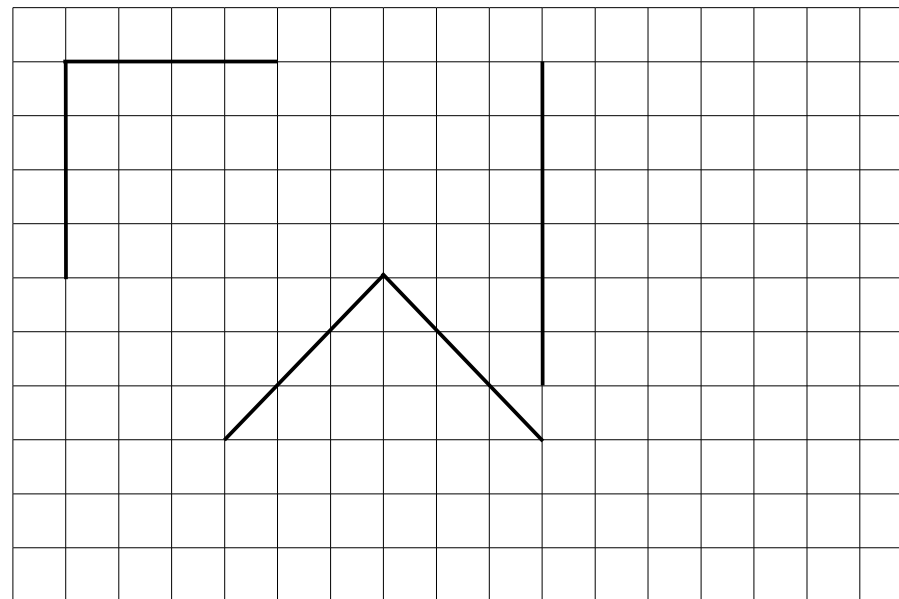
Reproduis ces carrés sur le quadrillage:



## Tracer un carré

Décrire, reproduire, tracer un carré, un rectangle, un triangle rectangle.

Complète pour obtenir trois carrés:



Complète pour obtenir deux carrés:

