

Jeudi 26 mars 2020

CE2

## 1) Orthographe

Ne confonds pas : a ou à.

\* **a** est le verbe **avoir** conjugué à la 3ème personne du singulier du présent. On peut le remplacer par **avait**.

Exemples :

Lucas **a** faim. → Lucas **avait** faim.

Le maître lui **a** donné un biscuit. → Le maître lui **avait** donné un biscuit.

\* **à** est un mot invariable. On ne peut jamais le remplacer par **avait**.

Exemple :

Il est allé **à** la montagne. → Il est allé ~~**avait**~~ la montagne.

Pas de sens !



### Exercice 1: Souligne en bleu le verbe avoir et en vert le mot invariable à.

- Il est assis à côté de moi.
- Maman m'a dit d'aller acheter du pain.
- Je grimpe à la corde.
- Qui a trouvé la réponse ?


### Exercice 2: Ecris les phrases au présent.



- Tu auras huit ans cet été.
- La voiture avait du mal à démarrer.
- Gabin aura un vélo rouge.
- Ma grand-mère avait une maison à la campagne.

**Exercice 3: Complète les phrases par a ou à. (mets a sans accent si tu peux remplacer par avait)**

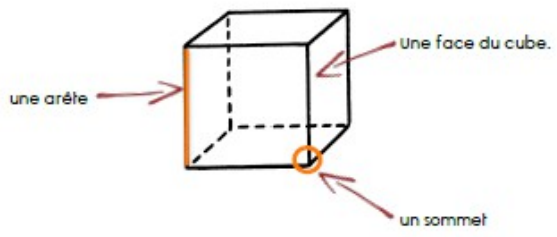
1. Ses grands-parents habitent ..... la campagne.
2. Il.....acheté une nouvelle maison.
3. Elle.....mangé une glace avec Adrien.
4. Gilles.....loué une maison pour 400€.
5. Elles se sont retrouvées.....l'école.
6. Robert est parti en vacances.....Haïti.
7. Céline et Bastien marchent l'un.....côté de l'autre.
8. Le magicien.....fait un tour surprenant.
9. Cette voiture est.....moi.

**2) Géométrie:**


 Les solides (1)

Le cube est un solide.  


Un cube a : - 6 faces.  
Toutes ses faces sont des carrés.






Le pavé droit est un solide.  
Il a 6 faces et chaque face est un rectangle .

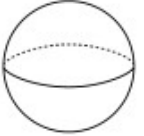





ou il a 4 faces rectangulaires et 2 faces carrées .





Les solides (2) 

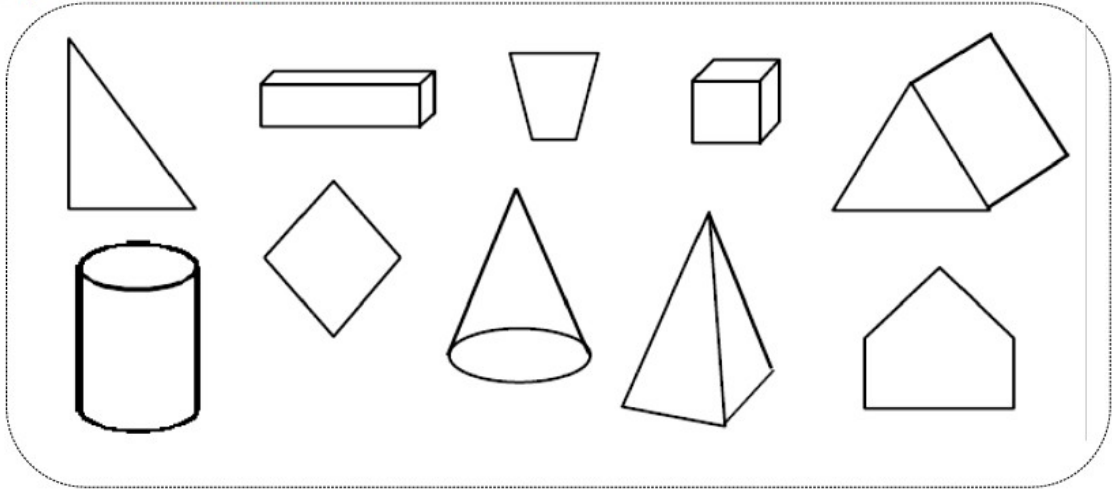
Une pyramide. →  

Une boule →  

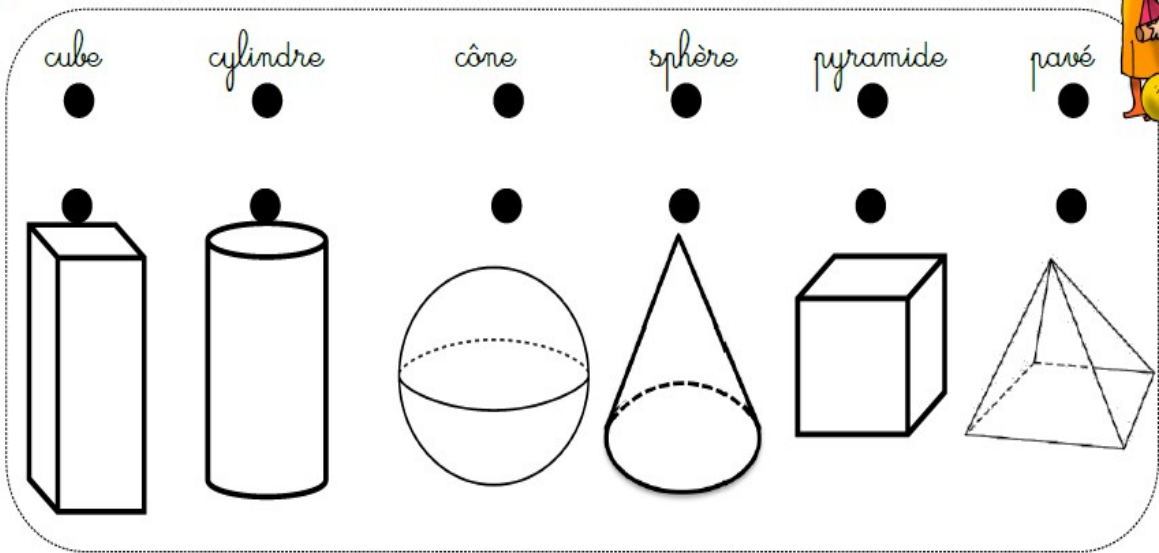
Un cylindre →  

Un cône →  

1 Je colorie les figures qui sont des solides



2 Je relie chaque solide à son nom.



### 3) Problème du jour.

Le 11 novembre, 8 bouquets de 12 fleurs sont déposés au monument aux morts.

**Combien de fleurs ont été nécessaires pour composer les 8 bouquets ?**

### 4) Range dans l'ordre alphabétique.

Harpe- haricot – harpon – hibou – hiver – habiter – humide – herbe – hurler

### 5) Tables de multiplication

4x5	4x7	4x6	4x1	4x3
4x2	4x4	4x8	4x10	4x9