

Vendredi 20 mars 2020

CE2

## 1) Vocabulaire

### Exercice 1 : Ecris le contraire de chaque mot.

remplir ..... l'entrée .....  
augmenter ..... le haut .....  
maigre ..... la nuit .....  
chaud ..... large .....

### Exercice 2: Récris ces phrases en changeant le préfixe de chaque mot souligné pour former les contraires.

Rex enterre son os. ◇ .....  
Nous mangeons à l'intérieur. ◇ .....  
Les nuages apparaissent. ◇ .....

### Exercice 3: Récris les contraires deux par deux.

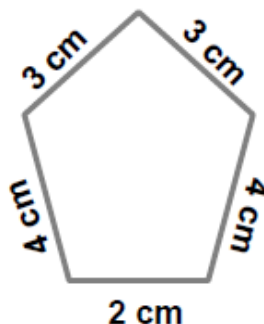
Gros - ouvert - irrespectueux - chaud - agité - épais - maigre - faible - fort - respectueux - calme  
fin - vivant - froid - fermé - mort

## 2) Grandeurs et mesures : le périmètre

### Le périmètre des polygones

Le périmètre d'une figure est la **longueur de son contour**.

Le périmètre s'obtient en **additionnant la mesure des côtés**.

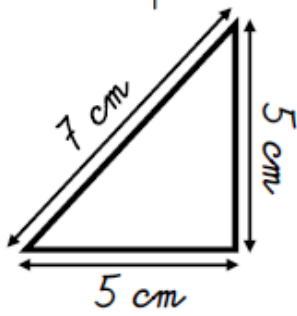


Le périmètre de cette figure est :

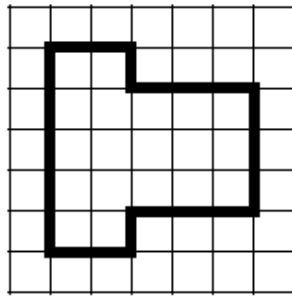
$$P = 2 + 3 + 4 + 3 + 4 = 16 \text{ cm}$$

GM°.

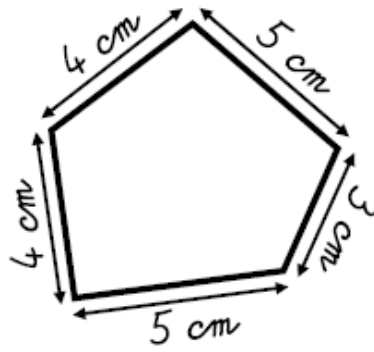
1. Calcule le périmètre de ces polygones.



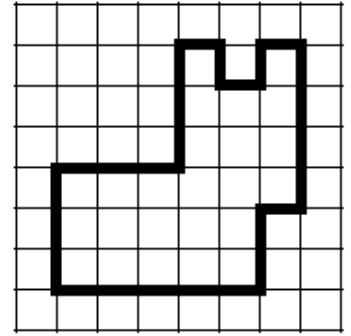
$P =$  \_\_\_\_\_  
 $P =$  \_\_\_\_\_ cm



$P =$  \_\_\_\_\_  
 $P =$  \_\_\_\_\_ carreaux



$P =$  \_\_\_\_\_  
 $P =$  \_\_\_\_\_ cm

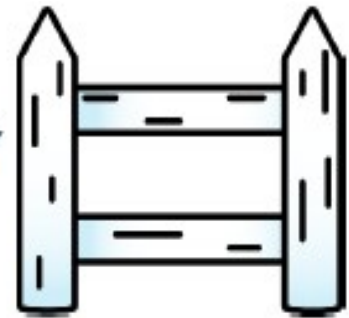


$P =$  \_\_\_\_\_  
 $P =$  \_\_\_\_\_ carreaux

2. Résous ce problème dans ton cahier.

Thomas veut entourer son potager carré de 15 m de côté avec une barrière.

Quelle longueur de barrière lui faut-il ?



### 3) Problème du jour.

Un écrivain fait le compte des ventes de son dernier roman. L'année dernière, le livre s'est vendu à 645 exemplaires. Depuis sa parution, il s'est vendu à 934 exemplaires.

**Combien d'exemplaires ont été vendus avant l'année dernière ?**

### 4) Range dans l'ordre alphabétique.

Cheval – chien – cabane – cartable – chenille – chapeau – chemin – cadeau – ciment – citer

### 5) Tables de multiplication

Revoir la table des 9.

### 6) Poésie.

Apprendre la poésie jusqu'à Martinique.

## SEPT COULEURS MAGIQUES

Rouge comme un fruit du Mexique  
Orangé comme le sable d'Afrique  
Jaune comme les girafes chics  
Vert comme un sorbet de Jamaïque  
Bleu comme les vagues du Pacifique  
Indigo comme un papillon des tropiques  
Violet comme les volcans de Martinique.

Qui donc est aussi fantastique,  
Est-ce un rêve ou est-ce véridique ?  
C'est dans le ciel magnifique  
L'arc aux sept couleurs magiques.

Mymi Doinet