

# Plan de travail du vendredi 27 mars 2020

Matière	Compétence		
Dictée	Ecrire sans erreur un texte sous la dictée.		
Orthographe	Savoir écrire les homophones grammaticaux es, est ou et.		
Vocabulaire	Ecrire des mots dérivés en utilisant des suffixes.		
Lecture	Trouver la bonne définition parmi plusieurs possibles pour un mot.		
Numération	Représenter et nommer un partage à l'aide de fractions.		
Calcul mental	Multiplier par 11 un nombre à deux chiffres.		
Problèmes	Résoudre un problème de proportionnalité.		
Calcul	Découvrir les solides.		

## Dictée :

Effectue la dictée flash donnée (une et deux étoiles).

## Orthographe :

1. Complète avec est, es ou et :

- L'igloo ... une maison de glace ... il est surtout utilisé au Canada ou au Groenland.
- « Le Corbeau... les Renard » ... une fable de La Fontaine.
- La forêt ... nécessaire à la planète : les arbres absorbent le carbone ... aident à ralentir le réchauffement.
- Athéna ... la déesse de la sagesse : c'... la fille de Zeus ... de Métis.
- La fusée ... sur la Lune : tu ... prêt à sortir ... tes compagnons te suivront.

## Vocabulaire

1. Ecris des noms dérivés des verbes suivants en employant le suffixe -age :

Exemple : maquiller → le maquillage

monter - découper - régler - décoller - déballer

2. Ecris les noms féminins dérivés des adjectifs suivants en employant le suffixe -ité.

Exemple : inférieur → l'infériorité

brutal - atroce - célèbre - tranquille - éternel - majeur

## Lecture :

Coche la bonne définition du mot souligné dans chaque phrase.

Mon oncle a toujours des pépins avec sa vieille voiture, il est obligé de la faire réparer régulièrement.

- petite graine que l'on trouve dans certains fruits
- mot familier pour « parapluie »
- mot familier pour « ennui », « difficulté »

L'autre jour, j'ai glissé sur une plaque de verglas ; je me suis fait un drôle de bleu à la cuisse.

- une des sept couleurs de l'arc en ciel
- nom que l'on donne à certains vêtements de travail
- coloration de la peau suite à une chute ou un coup

A la fin du marathon, j'étais fatigué et j'avais plein d'ampoules aux pieds.

- petit tube de verre de forme allongée qui contient un médicament
- cloque provoquée par un frottement de la peau
- globe de verre contenant un gaz rare et un filament que le courant électrique rend lumineux

Il nous assomme avec ses histoires à dormir debout !

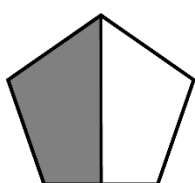
- faire perdre connaissance en heurtant la tête
- étourdir
- ennuyer, fatiguer quelqu'un

Le dentiste creuse les dents cariées avec sa roulette afin de les soigner.

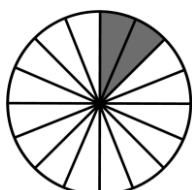
- jeu de hasard dans lequel on lance une petite boule sur un plateau
- instrument médical
- petite roue

## Numération:


Sur cette feuille, indique la fraction correspondant à la partie grisée.



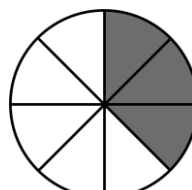
\_\_\_\_\_



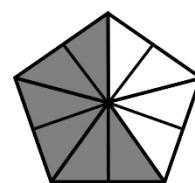
\_\_\_\_\_




\_\_\_\_\_



\_\_\_\_\_



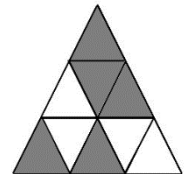
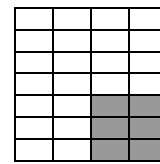
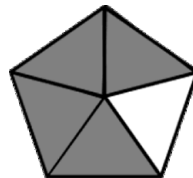
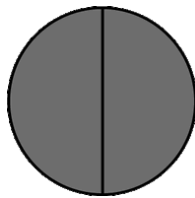

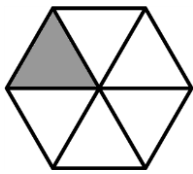
\_\_\_\_\_



\_\_\_\_\_

Si tu ne te souviens plus,  
utilise **ta leçon 8** ou regarde  
la vidéo suivante :

<https://huit.re/CMLecon8>



—

—

—

—

—

—

### Calcul mental:

Calcule comme dans l'exemple :

Exemple :  $24 \times 11 = (24 \times 10) + (24 \times 1) = 240 + 24 = 264$

$46 \times 11 =$

$18 \times 11 =$

$66 \times 11 =$

$12 \times 11 = \dots$

$50 \times 11 = \dots$

### Problèmes :

Calcule le prix des entrées au cinéma :

Nombre d'entrées	2	4	7	10	13
Prix en €	16				

Complète le tableau suivant :

Nombre de côtés	3	4	5	6	10
Périmètre	30				

## Géométrie :

Complète les fiches d'identité des solides suivants :

### FICHE D'IDENTITE du **CUBE**

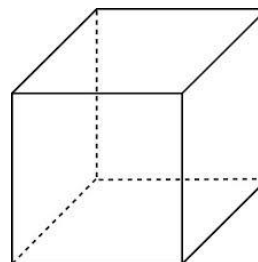
Nombre de sommets :

Nombre d'arêtes :

Nombre de faces :

Les faces sont des :

Illustration :



### FICHE D'IDENTITE du **PAVÉ**

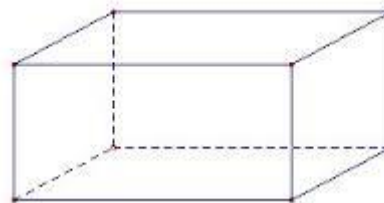
Nombre de sommets :

Nombre d'arêtes :

Nombre de faces :

Les faces sont des :

Illustration :



### FICHE D'IDENTITE de la **PYRAMIDE**

Nombre de sommets :

Nombre d'arêtes :

Nombre de faces :

Les faces sont des :

Illustration :

