

Jeudi 26 mars 2020


CM1

1) Orthographe


L'accord du participe passé (1)

Julie est allée à la piscine avec Tim. C'est Julie qui est allée.

Il^s sont tombés dans l'eau. Ce sont Julie et Tim qui sont tombés.

Avec **être**, le participe passé **s'accorde avec le sujet**. 

Julie a avalé... Qu'est-ce qu'elle a avalé ?
Je ne sais pas ce qu'elle a avalé.

Avec **avoir**, le participe passé **NE s'accorde PAS avec le sujet**. 

leparticipeaffaire.com

Exercice 1: Accorde les adjectifs entre parenthèses.

- a) Comme ces fleurs sont (parfumé)
- b) Ces accidents sont (répétitif)
- c) Ces hôtels paraissent bien (vétuste)
- d) Cette poésie est (long) et (difficile)
- e) Stella semble bien (rêveur) ce matin.

Exercice 2: Accorde les participes passés entre parenthèses.

- a) Ma mère est (demeuré) sans réaction.
- b) Ces courageux alpinistes sont (monté) au sommet de l'Everest.
- c) Ces plantes sont (mort) de soif.
- d) Cette nouvelle dans le journal est (sorti) de son contexte.
- e) Ces vacanciers sont (passé) par la Grèce.

Exercice 3: Accorde les participes passés entre parenthèses. Attention, le participe passé ne s'accorde pas avec le verbe avoir.

- a) Les voyageurs ont (monté) leurs bagages.
- b) Aline est (monté) dans le train.
- c) Marion a (descendu) les escaliers.
- d) Les déménageurs sont (descendu) du camion.
- e) Les fantômes sont (resté) dans cette maison.

2) Géométrie:

Les quadrilatères

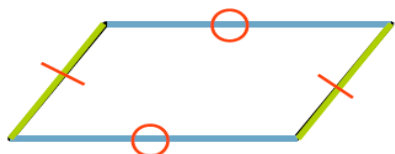


Un quadrilatère quelconque



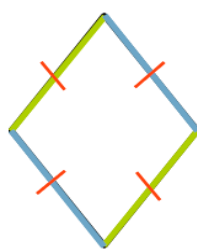
Un trapèze

- 2 côtés parallèles



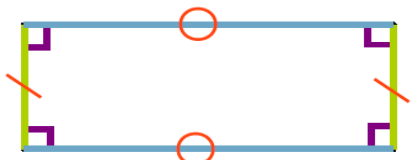
Un parallélogramme

- Côtés *parallèles* 2 à 2
- Côtés opposés *égaux*



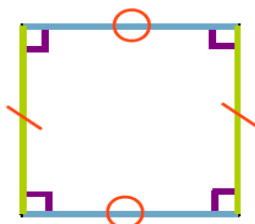
Un losange

- Côtés *parallèles* 2 à 2
- 4 côtés *égaux*.



Un rectangle

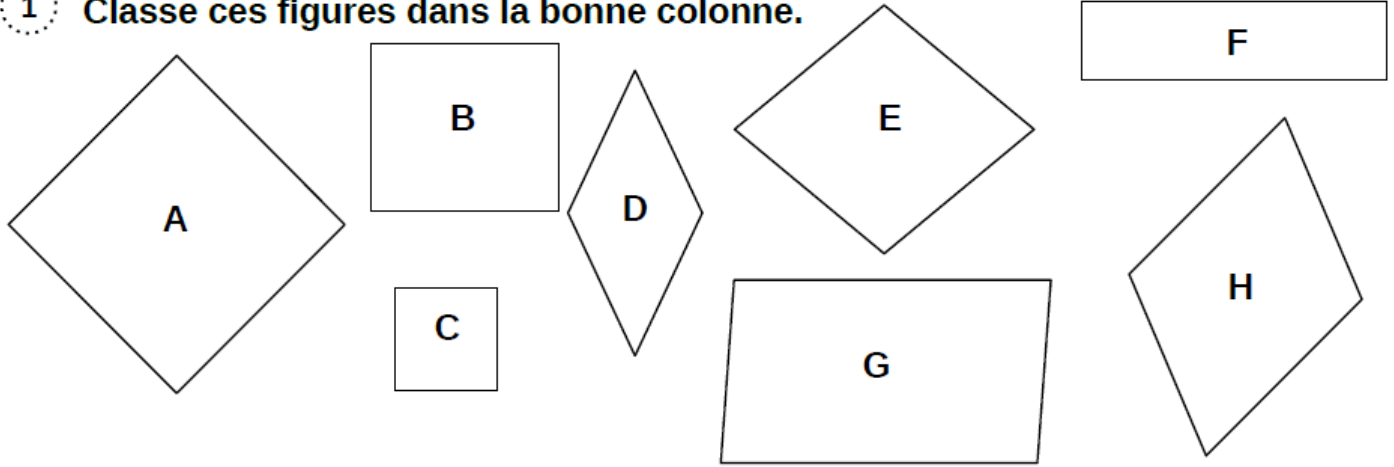
- Côtés *parallèles* 2 à 2
- Côtés opposés *égaux*
- 4 angles *droits*



Un carré

- Côtés *parallèles* 2 à 2
- 4 côtés *égaux*
- 4 angles *droits*

1 Classe ces figures dans la bonne colonne.



carrés	rectangles	losanges	parallélogrammes

Exercice 2 : De quel quadrilatère s'agit-il ?

- a) J'ai 4 angles droits et mes 4 côtés sont de la même longueur.
- b) Je n'ai pas d'angle droit et j'ai 4 côtés égaux.
- c) Mes côtés opposés sont égaux et parallèles deux à deux. Je n'ai pas d'angles droits.
- d) J'ai 4 angles droits et mes côtés sont égaux deux à deux.

3) Problème du jour.

Le 11 novembre, 8 bouquets de 36 fleurs sont déposés au monument aux morts.

Combien de fleurs ont été nécessaires pour composer les 8 bouquets ?

4) Range dans l'ordre alphabétique.

Harpe- haricot – harpon – hibou – hiver – habiter – humide – herbe – hurler

5) Tables de multiplication

- | | | | | |
|-----|-----|-----|------|-----|
| 4x5 | 4x7 | 4x6 | 4x1 | 4x3 |
| 4x2 | 4x4 | 4x8 | 4x10 | 4x9 |