







Évaluation de calcul : La soustraction avec retenue

compétences évaluées	Savoir calculer une soustraction avec retenue.	
	Savoir poser et résoudre une soustraction avec retenue en colonne.	

1. Calcule.

$\begin{array}{r} 45 \\ - 17 \\ \hline \end{array}$	$\begin{array}{r} 73 \\ - 43 \\ \hline \end{array}$	$\begin{array}{r} 54 \\ - 16 \\ \hline \end{array}$	$\begin{array}{r} 67 \\ - 26 \\ \hline \end{array}$	$\begin{array}{r} 88 \\ - 19 \\ \hline \end{array}$
.....

2. Pose et calcule.

$52 - 16 =$	$52 - 16 =$	$52 - 16 =$	$52 - 16 =$
			

3. Calcule.

$\begin{array}{r} 154 \\ - 27 \\ \hline \end{array}$	$\begin{array}{r} 653 \\ - 208 \\ \hline \end{array}$	$\begin{array}{r} 462 \\ - 87 \\ \hline \end{array}$	$\begin{array}{r} 375 \\ - 248 \\ \hline \end{array}$	$\begin{array}{r} 593 \\ - 316 \\ \hline \end{array}$
.....

4. Problème :

Serge a 32 billes. Il en perd 17 à la récréation. Combien lui en reste-t-il ?

