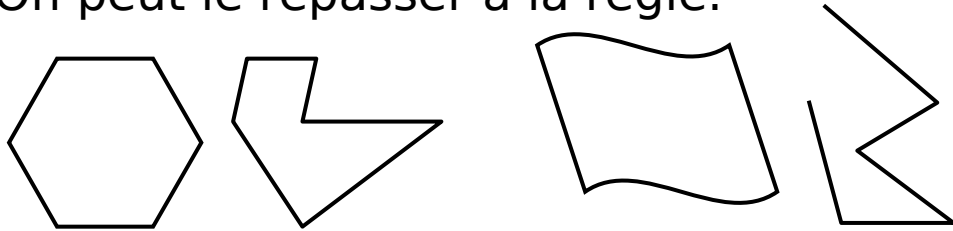


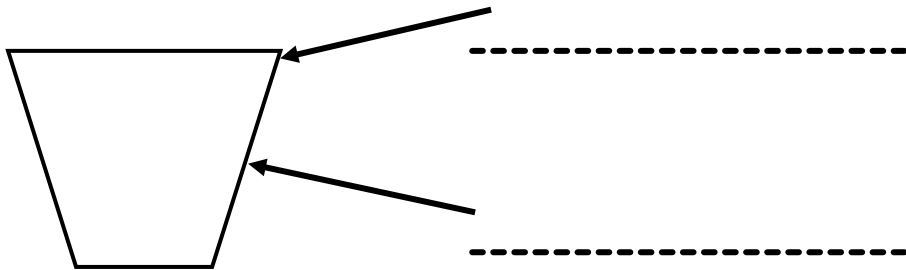
## LES POLYGONES

Un polygone est une figure géométrique **fermée** composée de **segments** (traits droits).

On peut le repasser à la règle.



Les **côtés** se rejoignent entre eux pour former les **sommets**.



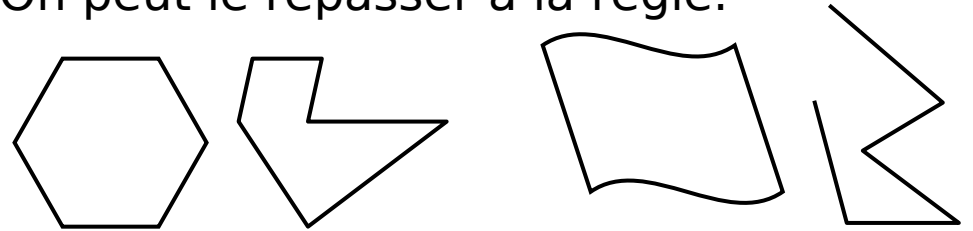
Ce polygone a ..... sommets et ..... côtés.

*Marque les sommets en rouge et repasse les côtés en bleu.*

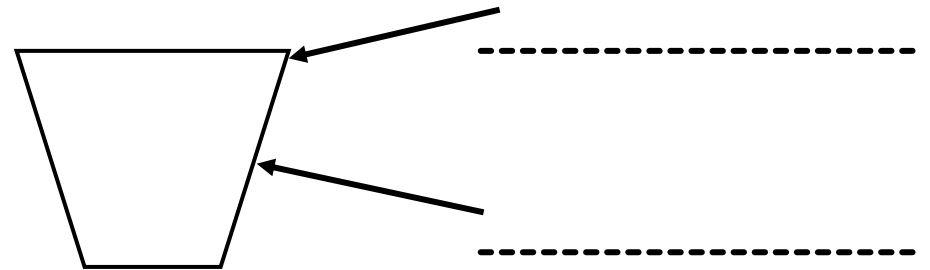
## LES POLYGONES

Un polygone est une figure géométrique **fermée** composée de **segments** (traits droits).

On peut le repasser à la règle.



Les **côtés** se rejoignent entre eux pour former les **sommets**.



Ce polygone a ..... sommets et ..... côtés.

*Marque les sommets en rouge et repasse les côtés en bleu.*